




アからカの6まいの<sup>がみ</sup>おり紙を、<sup>した</sup>下の<sup>ず</sup>図のようにかさねました。


おり紙は、どのような<sup>がみ</sup>じゅんばんでかさなっていますか。

にあてはまる<sup>きごう</sup>記号を<sup>か</sup>書きましょう。

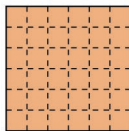
### [<sup>がみ</sup>おり紙]




ア



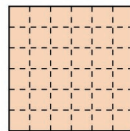
イ




ウ



エ

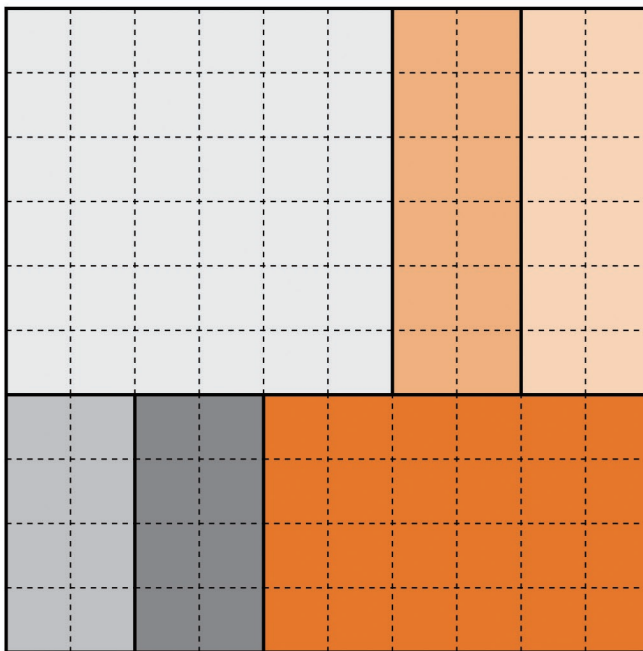


オ

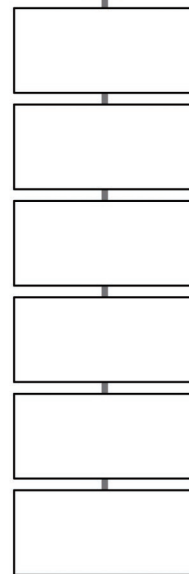


カ

### [<sup>がみ</sup>おり紙をかさねた<sup>ず</sup>図]



うえ  
上



した  
下

